



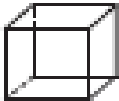
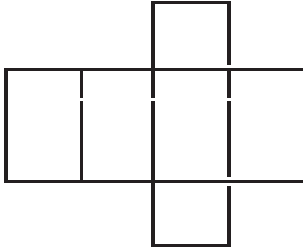
GUÍA DE TRABAJO N° 5 (Parte II)
MATEMÁTICAS 2° Básico



N° _____ Nombre: _____ Fecha: _____



Objetivo: Reconocer redes geométricas y asociarlas a figuras 3D o cuerpos geométricos.



Conocer redes geométricas

Una con una línea cada cuerpo geométrico con su correspondiente red.

1  

2  

3  

4  

Desafío.

- 1 El cilindro tiene dos caras que son círculos y yo tengo una menos.
El cilindro no tiene vértices y yo tengo uno. ¿Quién soy?
