



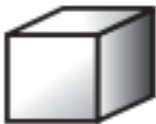


GUÍA DE TRABAJO N° 8 (ParteII)
MATEMÁTICAS 2° Básico

N° _____ Nombre: _____ Fecha: _____

Objetivo: Reforzar los contenidos abordados y resolver dudas.

Relacionando objetos y cuerpos 3D

1. Dibuja y pinta 3 objetos similares a cada uno de estos cuerpos 3D.

2. Observa las siguientes figuras 3D.

Marca con una cruz la figura 3D que tiene: una cara basal, un vértice y su cara lateral es una superficie curva.

				
---	---	---	--	---