

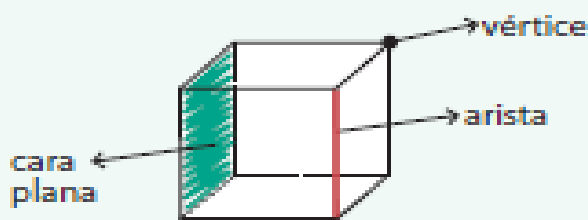


GUÍA DE TRABAJO N° 1 (Parte II)
MATEMÁTICAS 2° Básico

N° _____ Nombre: _____ Fecha: _____

Objetivo: Conocer e identificar elementos característicos de las figuras 3D o cuerpos geométricos.

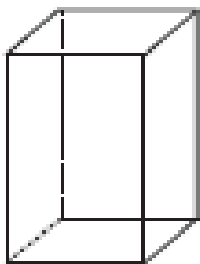
Conocer elementos de los cuerpos geométricos o figuras 3D



6 caras planas
8 vértices
12 aristas

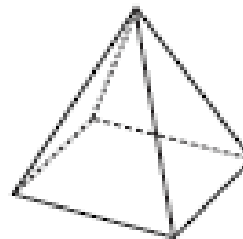
Observe cada figura 3D y complete.

1 prisma rectangular



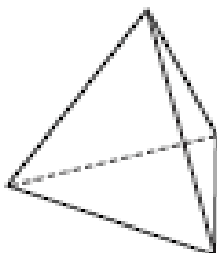
___ caras planas
___ vértices
___ aristas

2 pirámide



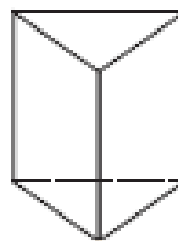
___ caras planas
___ vértices
___ aristas

3 pirámide



___ caras planas
___ vértices
___ aristas

4 prisma triangular



___ caras planas
___ vértices
___ aristas