



Guía de Matemática
4° Básico

Nombre: _____ Fecha: _____

Objetivo: Clasificar ángulos.

I. Clasifica los siguientes ángulos en: recto, obtuso, agudo y llano.


- | | |
|----------------------|----------------------|
| a) 180° _____ | b) 65° _____ |
| c) 131° _____ | d) 141° _____ |
| d) 90° _____ | e) 34° _____ |
| f) 145° _____ | g) 78° _____ |
| h) 64° _____ | i) 49° _____ |
| j) 109° _____ | k) 93° _____ |

II. Colorea el ángulo según corresponda: recto: rojo – agudo: azul – obtuso: verde – extendido: anaranjado

Ej)



1)



2)



3)



4)



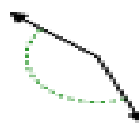
5)



6)



7)



8)




9)



10)



11)



12)



13)



14)




15)



16)



17)



18)



19)



20)

