




Nombre:

Fecha: Curso:

Elementos del paisaje

1.- En el dibujo, identifica las siguientes formas del relieve terrestre y escribe su nombre


valle volcán mar meseta cordillera río montaña costa



2.- Pinta con **dos colores** diferentes
los elementos naturales del paisaje y
los elementos creados por las
personas

¿Dónde está?


Escribe dónde se encuentra cada persona.




En _____



En _____



En _____



En _____



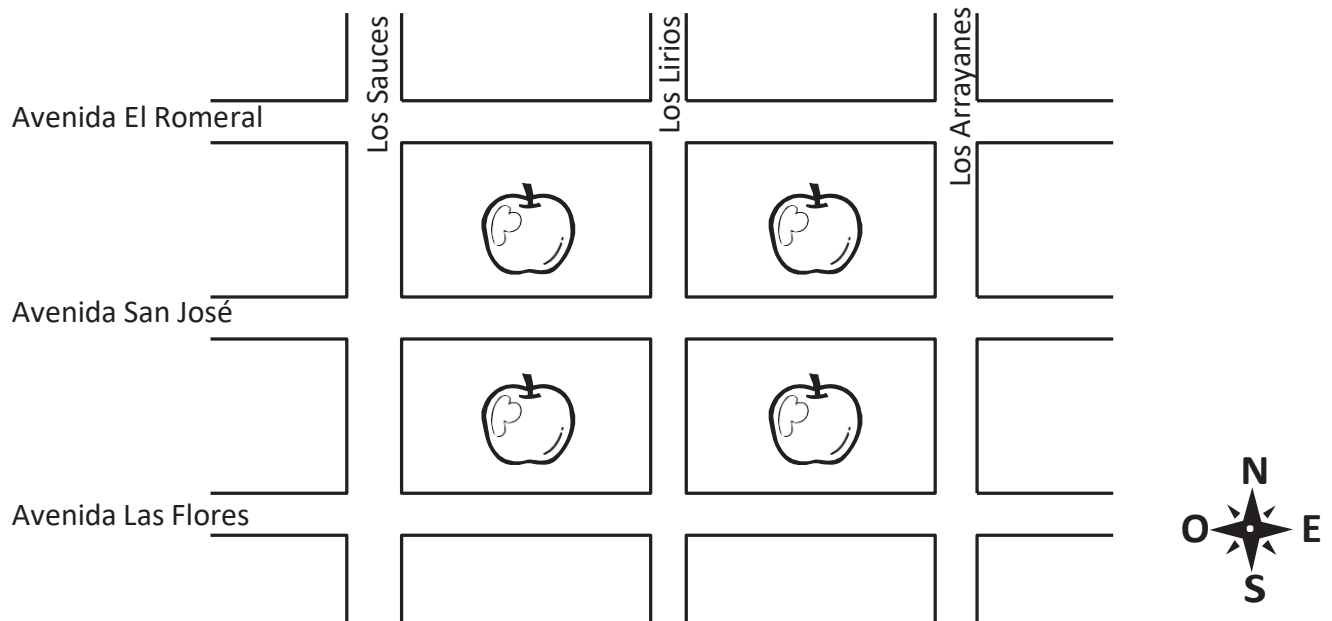
En _____




En _____

Completando un plano

Lee las instrucciones y completa el plano.



Dibuja:

- Una estrella amarilla en la intersección de la Avenida Las Flores con Los Lirios.
- Un verde en la intersección de Los Arrayanes con la Avenida El Romeral.
- Una  roja en la intersección de la Avenida San José con Los Sauces.

Pinta con color:

- Naranja: la manzana que está entre la Avenida El Romeral, la Avenida San José, Los Lirios y Los Arrayanes.
- Azul: la manzana que está entre Los Sauces, Los Lirios, la Avenida Las Flores y la Avenida San José.

Dibuja con símbolos:

- Un árbol: al sur de la manzana de color naranja.
- Una casa: al oeste de la manzana de color azul.
- Un edificio: al norte de la manzana de color naranja.
- Una escuela: al este de la manzana de color azul.