




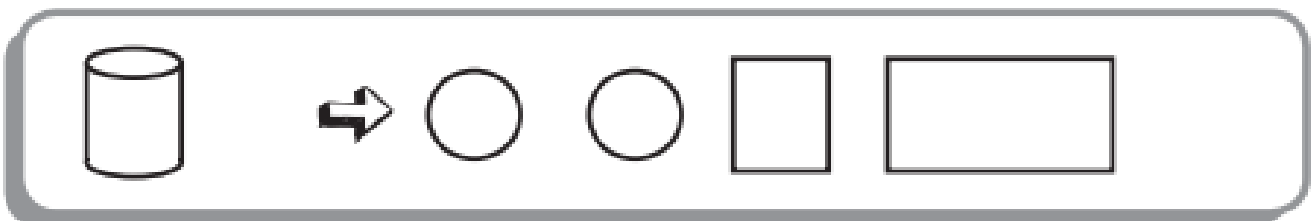

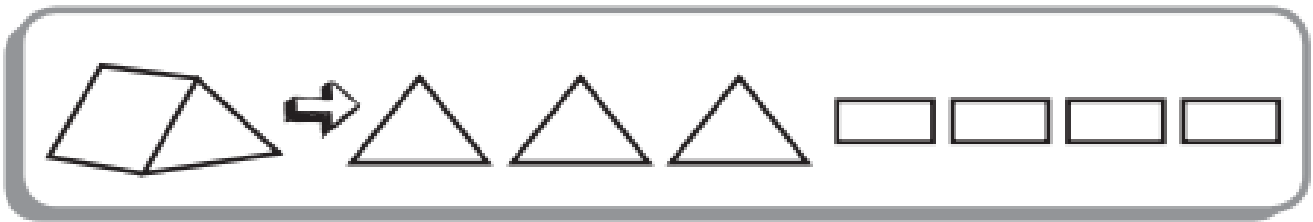
**GUÍA DE TRABAJO N° 9 (ParteII)**  
**MATEMÁTICAS 2° Básico**

N° \_\_\_\_\_ Nombre: \_\_\_\_\_ Fecha: \_\_\_\_\_

**Objetivo: Reforzar los contenidos abordados y resolver dudas.**

## Caras de los cuerpos geométricos

1. Pinta las caras necesarias para formar cada cuerpo geométrico.



2. Adivina de qué cuerpo geométrico se trata. Dibuja la solución.

Me obligaron a rodar  
aunque redondo no soy,  
pues mis seis caras  
iguales son.

