

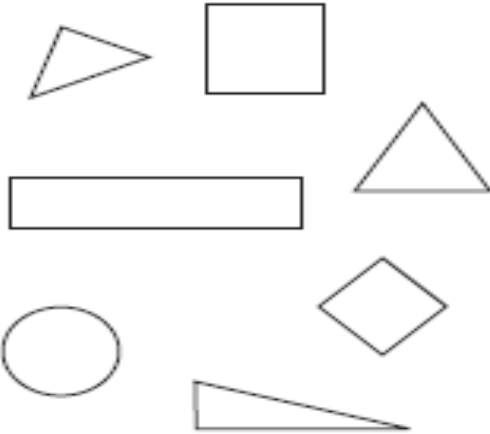
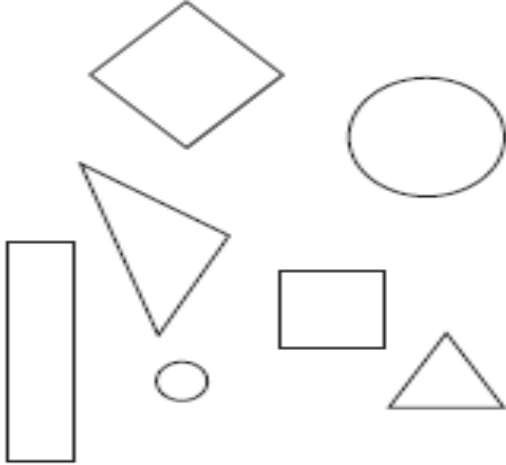
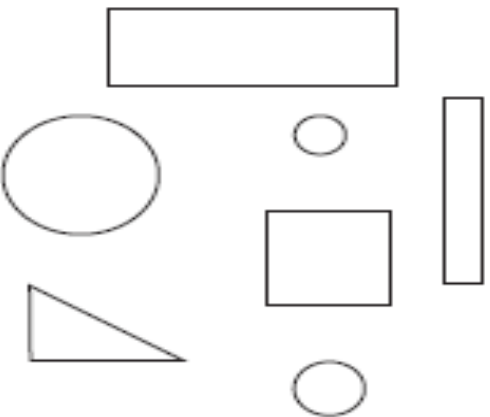
**GUÍA DE TRABAJO N° 2 MATEMÁTICAS 2° Básico**

N° \_\_\_\_\_ Nombre: \_\_\_\_\_ Fecha: \_\_\_\_\_

**Objetivo: Reconocer e identificar figuras planas o 2D.**

**Reconocer figuras planas o figuras 2D**

Encierre la o las figuras 2D que corresponden según se indica.

<p><b>1</b> triángulos</p> 	<p><b>2</b> cuadrados</p> 
<p><b>3</b> círculos</p> 	<p><b>4</b> rectángulos</p> 