




GUÍA DE TRABAJO N° 10 (Parte II)
MATEMÁTICAS 2° Básico

N° _____ Nombre: _____ Fecha: _____

Objetivo: Reforzar los contenidos abordados y resolver dudas.

Caras, vértices y aristas

1. Adivina de qué cuerpo geométrico se trata. Dibuja la solución.



Tengo 5 caras,
9 aristas y
6 vértices.

2. Indica el número de caras, vértices y aristas de los siguientes cuerpos. Luego escribe sus nombres.

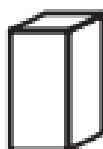


Es un _____

* Caras: _____

* Vértices: _____

* Aristas: _____

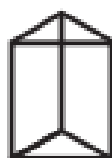


Es un _____

* Caras: _____

* Vértices: _____

* Aristas: _____



Es un _____

* Caras: _____

* Vértices: _____

* Aristas: _____