



GUÍA DE TRABAJO “TRABAJANDO CON PICTOGRAMAS”.
1° AÑO DE ENSEÑANZA BÁSICA

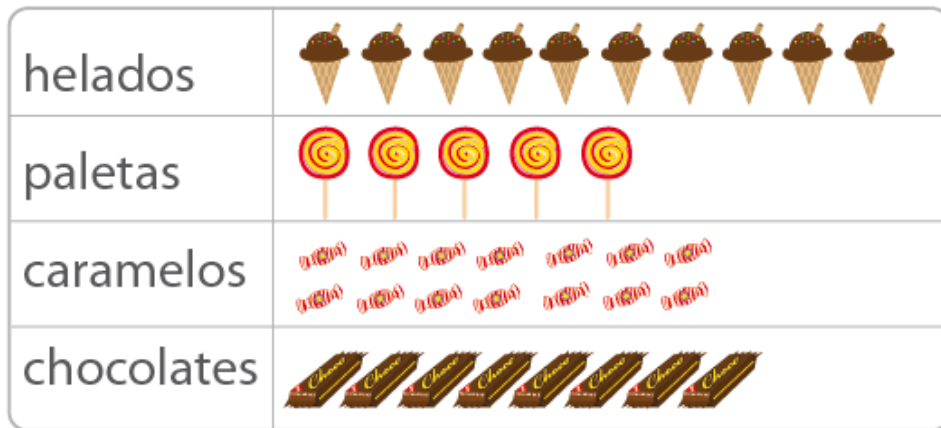
Nombre: _____

Curso: _____ Fecha: _____

Objetivo de Aprendizaje	<ul style="list-style-type: none"> - Recolectar y registrar datos para responder preguntas estadísticas sobre sí mismo y el entorno, usando bloques, tablas de conteo y pictogramas. - Construir, leer e interpretar pictogramas.
--------------------------------	---

INSTRUCCIONES: Lee cuidadosamente antes de responder.

I. Don Nano tiene un almacén donde vende golosinas. Completa las preguntas para saber cómo van las ventas de su negocio.



a. ¿Qué golosina fue la que más vendió?

.....
.....

b. ¿Qué golosina fue la que menos vendió?

.....
.....

c. ¿Vendió más helados o chocolates?

.....
.....

d. ¿Cuántos caramelos vendió?

.....
.....

e. ¿Cuántos helados vendió?


.....
.....





f. ¿Vendió menos paletas de dulce o helados?

.....
.....

II. Completa el pictograma sobre los deportes favoritos del 1° básico con la información entregada y luego responde las preguntas.

- a. 8 niños prefieren el fútbol
- b. 5 niños prefieren el tenis
- c. 7 niños prefieren el básquetbol
- d. 10 niños prefieren el ping pong

Un  representa un niño

a. ¿Cuál es el deporte favorito del 1ºC?

.....

b. ¿Qué deporte es el que menos practican?

.....

c. ¿Cuántos niños más prefieren ping pong que futbol??

.....

d. ¿A cuántos niños se encuestó?

.....

III. Observa la tabla de conteo y responde:

Juego tradicional preferido		
Juego tradicional	Conteo	Cantidad
		25
		10
		30

a. ¿Cuántos estudiantes prefieren el trompo?

.....
.....

b. ¿qué juego tradicional tiene más preferencias?

.....
.....

c. ¿Qué diferencia hay entre el juego que tiene más preferencias y el que tiene menos?

.....
.....

d. ¿Cuántos niños fueron encuestados?

.....
.....